

一、寫出直式算算看：(12分)

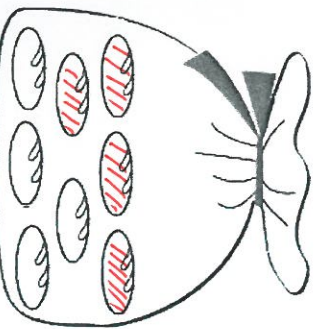
① $32 \div 4$ $\begin{array}{r} 8 \\ 4 \overline{) 32} \\ \underline{32} \\ 0 \end{array}$	② $15 \div 3$ $\begin{array}{r} 5 \\ 3 \overline{) 15} \\ \underline{15} \\ 0 \end{array}$
③ $69 \div 8$ $\begin{array}{r} 8 \\ 8 \overline{) 69} \\ \underline{64} \\ 5 \end{array}$	④ $21 \div 7$ $\begin{array}{r} 3 \\ 7 \overline{) 21} \\ \underline{21} \\ 0 \end{array}$
⑤ $77 \div 9$ $\begin{array}{r} 8 \\ 9 \overline{) 77} \\ \underline{72} \\ 5 \end{array}$	⑥ $16 \div 2$ $\begin{array}{r} 8 \\ 2 \overline{) 16} \\ \underline{16} \\ 0 \end{array}$

二、畫畫看，做做看：(22分) (一格2分)

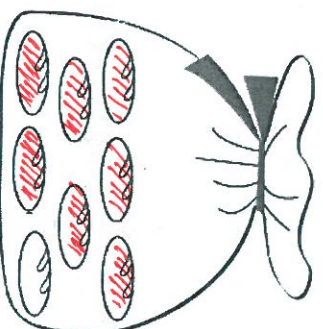
1. 標出  $\frac{1}{2}$  半徑長和  $\frac{1}{2}$  直徑長，量一量並填填看看：



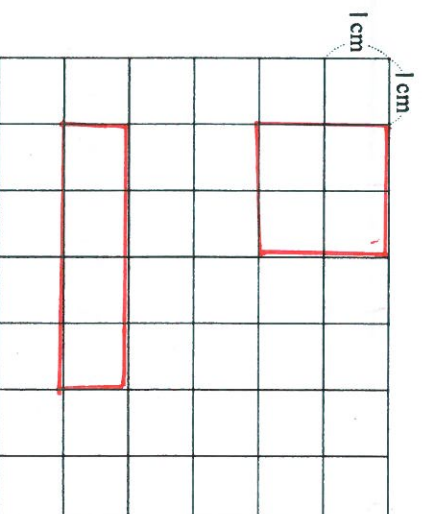
- ① \_\_\_\_\_
- ② 半徑長是 ( 2 ) 公分。
- ③ 直徑長是 ( 4 ) 公分。
- (4) 直徑長是半徑長的 ( 2 ) 倍。
2. 1 袋麵粉包有 8 個。先塗一塗，再填看看：



- ①  $\frac{4}{8}$  袋麵粉包有 ( 4 ) 個。
- ② 7 個是 (  $\frac{7}{8}$  ) 袋麵粉包。



3. 畫出 ① 邊長是 2 公分的正方形 ② 周長是 10 公分的長方形



三、勾選題：(10分)

1. 1 條彩帶平分成 7 段，1 段是  $\frac{1}{7}$  條彩帶。選出正確的，並在  中打  $\checkmark$ ：(4%)

①  $\frac{1}{7}$  的 7 表示什麼？

1 條彩帶平分成 7 段

7 段中的其中 1 段

②  $\frac{1}{7}$  的 1 表示什麼？

1 條彩帶平分成  $\frac{1}{7}$  段

7 段中的其中 1 段

2. 有 2 種世界的圖形，在  ( ) 裡打  $\checkmark$ ：(4%)



3. 今天麵包店老闆烤了 899 個麵包

包，賣出 615 個後，大約剩下幾百

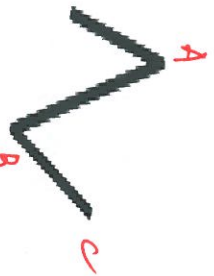
個？最能接近正確答案的在  中打

V:  300 個  400 個  500 個  
 899 → 900  
 615 → 600

四、比比看：(6分)

1. 拿出  圓規畫的畫看看，哪一條線段長？

較長？



甲  乙


A B C A B C

( Z ) 比較長。

2. 小華喝了  $\frac{1}{2}$  杯水，小莉也喝了  $\frac{1}{2}$

杯水，誰喝得比較多？

圈起來

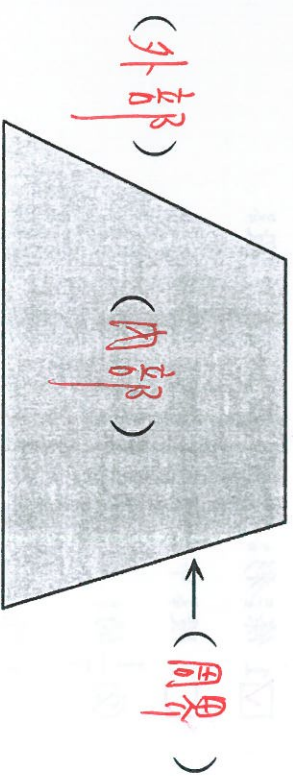


小華

小莉

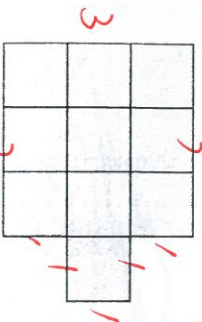
五、看圖填看：(7分) (一格一分)

1. 在  裡填入內部分、外部分或周界：



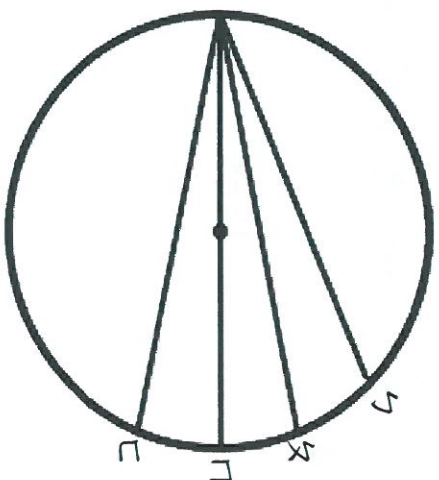
2. 下面小方格的邊長是 1 公分，算

看圖形的周長是幾公分？



( 14 ) 公分

3.




① 哪一條是直徑？ ( 1 ) ( 填代號 )

② 哪一條是最長？ ( 1 ) ( 填代號 )

4. 下圖是幾盒梨子？用分數記

看：

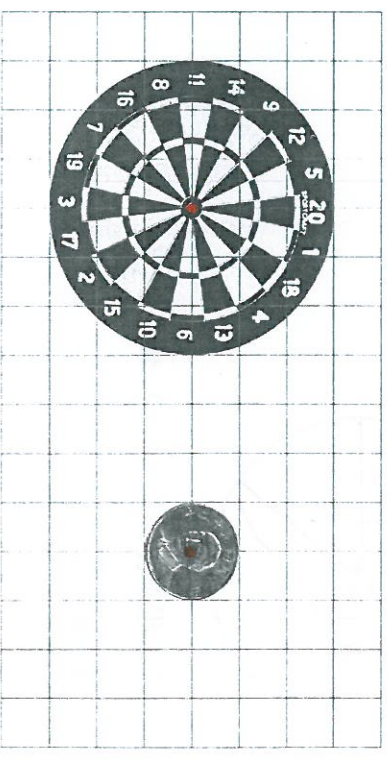
1 盒梨子有 9 個。



1 個是 (  $\frac{1}{9}$  ) 盒


六、畫畫看：(6分)

1. 用紅筆畫出下面物品的圓心：



2. 用圓規畫出一個直徑 6 公分的

圓。



八、填填看：(22分)


1.  $8000 - 300 - 2700$   
 $= (1700) - 2700$   
 $= (5000)$

2.  $364 + 779 + 57$   
 $= (1143) + 57$   
 $= (1200)$

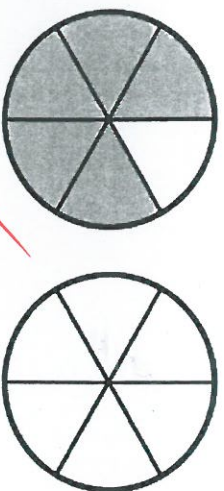
3. 依一照順序用分數填填看：



4. 塗色部分是幾個圓？用分數填填看。



( $\frac{1}{2}$ ) 個圓



( $\frac{2}{3}$ ) 個圓

5. 1條綵帶的長度是 $\frac{1}{12}$ 公尺。5條綵帶的

長度是(5)個 $\frac{1}{12}$ 公尺，是

( $\frac{5}{12}$ )公尺。

6.  $\frac{5}{5}$ 是(5)個 $\frac{1}{5}$ ，1是(5)

個 $\frac{1}{5}$ 。

7.

$$\begin{array}{r} 7 \overline{) 7} \\ 7 \phantom{0} \\ \hline 0 \end{array}$$

$$\begin{array}{r} 49 \dots (7) \times (7) \\ 0 \dots (49) - (49) \end{array}$$

$$\begin{array}{r} 5 \\ 7 \overline{) 37} \\ 35 \dots (7) \times (5) \\ \hline 2 \dots (37) - (35) \end{array}$$

十、應用題：(15分)

1. 有43個水餃，每6個裝1盤，最多可以裝成幾盤？剩幾顆？

$43 \div 6 = 7 \dots 1$

A: 7盤剩1顆

2. 有一個正方形邊長7公分，周長是多少？

$7 \times 4 = 28$

A: 28公分

3. 老師有0張貼紙，平均分給7個小孩，每人分到幾張？

$0 \div 7 = 0$

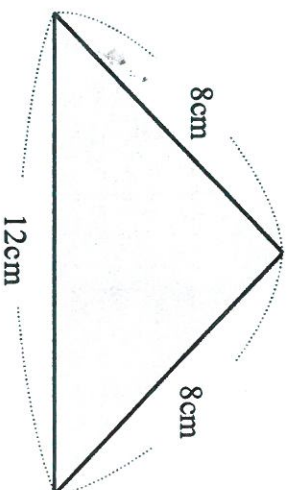
A: 0張

4. 小奇有7935元，買一個玩具花了672元，媽媽又給了他1500元，他還剩下幾元？

$$\begin{array}{r} 7935 - 672 + 1500 \\ = 9263 + 1500 \\ \hline 935 \\ 672 \\ \hline 263 \end{array}$$

$= 8763$  A: 8763元

5. 算出下面圖形形的周長：



$8 + 8 + 12 = 28$

A: 28 cm